

成都市青羊区小学 2018-2019 学年度上期
四年级数学期末检测题

(完卷时间 90 分钟)

题号	一	二	三	四	五	总分	附加题
得分							

得分	评卷人


一、填空题。(20 分)


1. 写出横线上的数。


(1) 月球到地球的平均距离大约是三十八万四千千米。()

(2) 据 2010 年人口普查, 我国总人口为十三亿七千零五十三万六千八百七十五人。
()

2. 认一认。


() AB


() AB


() AB

3. 一个十位数, 最高位上是 5, 千万位上是 8, 十万位上是 2, 千位上是 9, 其余数位上都是 0, 这个数是 ()。

4. (1) 像 -1000, -500, -127, -80, ……都是 () 数。

(2) 0 既不是 () 数, 也不是 () 数。

(3) 如果地上 6 层用 “6” 表示, 那么地下 2 层用 () 表示。

5. “5490070000” 这个十位数, 是由 5 个 ()、4 个 ()、9 个 ()、7 个 () 组成的。

6. 一辆货车 3 小时行了 270 千米, 这辆货车的速度是 ()。

7. (1) $64738 \approx$ () 万 (2) $3800000 =$ () 万

8. 淘气掷 8 次硬币都是正面朝上, 掷第 9 次 () 正面朝上。(选填: “可能” “一定” “不可能”)

9. 添上括号使 “ $9 \div 3 \times 5 - 2 = 1$ ” 成立。 (把算式写在横线上)

10. 一个两位数的末尾添上一个 0, 变成三位数后增加了 342, 这个两位数是 ()。

得分	评卷人

二. 计算题。(36分)

1. 口算。(6分)

$400 \div 80 =$

$336 \div 64 =$

$40 \times 12 =$

$21 \times 30 =$

$7200 \div 90 =$

$270 + 90 =$

$631 - 199 =$

$80 \times 40 =$

$946 - 46 =$

$125 \times 5 \times 8 =$

$200 \div 50 =$

$400 - 85 =$

2. 竖式计算。(12分)

$816 \times 25 =$

$989 \div 43 =$

$503 \times 74 =$

$858 \div 39 =$

3. 脱式计算。(18分)

$25 \times (4 + 396)$

$25 \times 125 \times 32$

$12 \times 98 + 24$

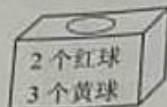
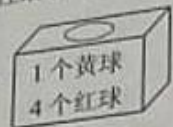
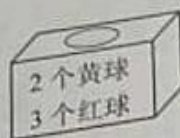
$37 \times 12 \div 4$

$(156 - (58 + 14)) \div 7$

$41 \times 23 + 36 \times 41 + 41 \times 41$

得分	评卷人

三、选择题。(5分)

- 计算 $500 - (3 \times (58 + 14))$ ，第二步是 ()。
A. 乘法 B. 加法 C. 减法
- 一个五位数的近似数是3万，这个五位数最大是 ()。
A. 34999 B. 25000 C. 29999
- 任意摸出一个，摸出黄球可能性最小的是 ()。
A.  B.  C. 
- 一个平角分成了两个角，其中一个角是直角，另一个角是 ()。
A. 锐角 B. 直角 C. 钝角
- 教室里，小明坐在第二组第4排，他的位置表示为(2, 4)。小军坐在第三组第2排，他的位置可表示为 ()。
A. 3, 2 B. (2, 3) C. (3, 2)

得分	评卷人


四、图形题。(17分)

1. 画一画。(6分)

(1) 画一个 70° 的角。

(2) 过点C，画出直线AB的平行线和垂线。

C •



2. 填一填。(3分)

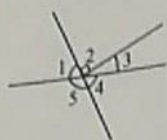


用数对表示剧场的位置: _____


用数对表示游泳馆的位置: _____

数对(5, 1)表示的是 () 的位置。

3. 算一算。下图中 $\angle 2$ 是直角， $\angle 3=30^\circ$ ，求 $\angle 5$ 的度数。(2分)



4. 估一估，大约有多少株花苗？(2分)



5. 填一填，小明从森林到水晶城的路线。(4分)



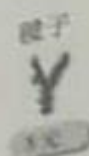

小明从森林向()走()米到沙漠，再向()走()米到金属工厂，再向()走()米到城堡，最后向()走()米到水晶城。

得分	评卷人

五、解决问题。(22分)

1. 一列火车有12节车厢，每个车厢准载118人，这列火车上有1200名乘客，超载了吗？

2. 王老师带了1200元去买体育用品。
- (1) 买了45根跳绳和10个毽子，用了多少钱？



- (2) 剩下的钱买皮球，能买多少个？

3. 小王12分钟打了960个字，小李18分钟打了1170个字。
- (1) 谁打字的速度快？

- (2) 一篇2000字的文章，小李能在半个小时内打完吗？

1. 甲乙两地相距 720 千米，一辆汽车上午 8:40 从甲地出发，到上午 10:40 已经行了 180 千米，照这样的速度，何时到达乙地？

得分	评卷人

附加题。(20 分)

1. 学校图书馆有科技书和故事书共 320 本，其中故事书的本数是科技书的 3 倍，故事书有多少本？

2. 在方框中填入合适的数。

(1)

$$\begin{array}{r}
 \\
 2 \overline{) 42} \\
 \underline{} \\
 17 \\
 \underline{5} \\

 \end{array}$$

(2)

$$\begin{array}{r}
 6 \\
 \times 35 \\
 \hline
 33 \\
 18 \\
 \hline

 \end{array}$$