

一年级数学上册期末测试及答案（一）

班级_____ 姓名_____ 分数_____

一、数一数、写一写。

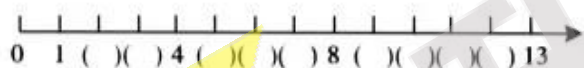


二、填一填。

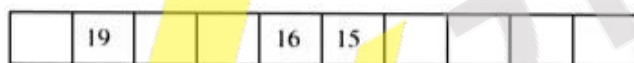
1. 下面一共有（ ）个图形。从左边数，○在第（ ）个，从右边数，在第（ ）个。把左边的三个图形圈出来。



2. (1)

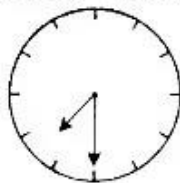


(2)



3. 20 里面有（ ）个十。
 1 个十和 5 个一合起来是（ ）。
 13 里面有（ ）个十和（ ）个一。
 10 前面的一个数是（ ），后面的一个数是（ ）。
4. () + 6 = 10 9 + () = 15 5 + () = 15
 () + 10 = 12 7 + () = 13 8 + () = 16

5. 今晚，电视里将会播出小明参加“少儿主持人大赛”的实况，播出时间是（ ）。



6. 在 6、8、9、15 这四个数中选出三个数，写出两道加法算式和两道减法算式。


$$\begin{array}{ll} \square \bigcirc \square = \square & \square \bigcirc \square = \square \\ \square \bigcirc \square = \square & \square \bigcirc \square = \square \end{array}$$

三、算一算。

$4+3=$	$7-6=$	$9-1=$	$8-0=$	$1+9=$
$5+4=$	$5+5=$	$0+1=$	$10-5=$	$3+3=$
$7+10=$	$12-10=$	$10-10=$	$8+2=$	$19-9=$
$7+8=$	$9+3=$	$5+7=$	$6+8=$	$8+3=$
$3+5+6=$	$10-1-8=$	$8-5+4=$	$2+6+4=$	
$5+4+7=$	$4+2+5=$	$9-7+9=$	$10-6+8=$	

四、比一比。

1. 哪棵树高？在高的下面画“√”。



2. 在最高的动物下面画“√”，最矮的下面画“○”。



3. 在○里填上>、<或=。

$7 \bigcirc 8$	$9 \bigcirc 11$	$6 \bigcirc 4+3$	$1 \bigcirc 15-10$
$10 \bigcirc 9$	$20 \bigcirc 12$	$13 \bigcirc 16-3$	$4 \bigcirc 8-4$
$9+6 \bigcirc 15$	$8+6 \bigcirc 13$	$16 \bigcirc 8+10$	$12 \bigcirc 6+6$

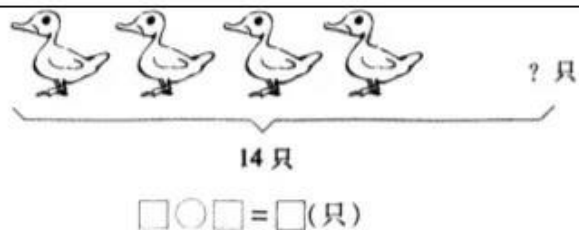
五、看图写算式。

- 1.




$\square \bigcirc \square = \square$	$\square \bigcirc \square = \square$
$\square \bigcirc \square = \square$	$\square \bigcirc \square = \square$

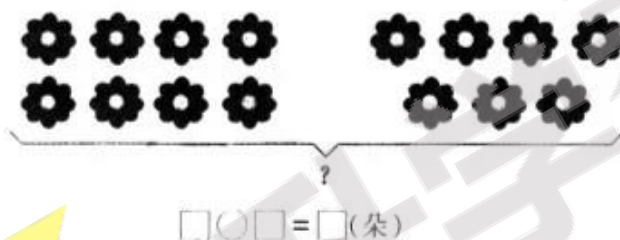
- 2.



3.



4.



六、走进生活。

1.

小华做了 9 只纸鹤，
小明做了 10 只，
两人共做()只。

□○□=□(只)

2.

亮亮做了 10 个毽子，
送给小朋友 7 个，
还剩()个。

□○□=□(个)

3.

树上原有 8 只猴子，
又跑来 5 只，
现在有()只。

□○□=□(只)

4.

一本书小红已经看了 8 页，
还有 9 页没看，
这本书原有()页。

□○□=□(页)

5. 为了欢度春节，小朋友们准备在大路两边各插 8 面旗帜，一共需要多少面旗帜？

6. 小朋友们正筹备着寒假里的活动，他们一共分成两组。第一组中有女生8人，男生7人，第二组中有女生7人，男生9人。第一组和第二组中各有多少人参加？哪一组人数较多？

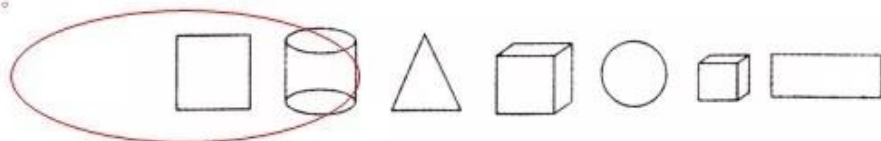
参考答案

一、数一数、写一写。

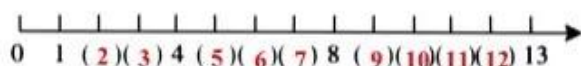


二、填一填。

1. 下面一共有（7）个图形。从左边数，○在第（5）个，从右边数，在第（3）个。把左边的三个图形圈出来。



2. (1)



(2)

20	19	18	17	16	15	14	13	12	11
----	----	----	----	----	----	----	----	----	----

3. 20 里面有 (2) 个十。

1 个十和 5 个一合起来是 (15)。

13 里面有 (1) 个十和 (3) 个一。

10 前面的一个数是 (9)，后面的一个数是 (11)。

4. (4) + 6 = 10

9 + (6) = 15

5 + (10) = 15

(2) + 10 = 12

7 + (6) = 13

8 + (8) = 16

5. 今晚，电视里将会播出小明参加“少儿主持人大赛”的实况，播出时间是 (7:30)。



6. 在 6、8、9、15 这四个数中选出三个数，写出两道加法算式和两道减法算式。
略

三、算一算。

$4+3=7$

$7-6=1$

$9-1=8$

$8-0=8$

$1+9=10$

$5+4=9$

$5+5=10$

$0+1=1$

$10-5=5$

$3+3=6$

$7+10=17$

$12-10=2$

$10-10=0$

$8+2=10$

$19-9=10$

$7+8=15$

$9+3=12$

$5+7=12$

$6+8=14$

$8+3=11$

$3+5+6=14$

$10-1-8=1$

$8-5+4=7$

$2+6+4=12$

$5+4+7=16$


$4+2+5=11$

$9-7+9=11$

$10-6+8=12$

四、比一比。

1. 哪棵树高？在高的下面画“√”。



√

☐
☐

2. 在最高的动物下面画“√”，最矮的下面画“○”。


☐ ○

☐

√

☐

3. 在○里填上>、<或=。

$7 < 8$

$9 < 11$

$6 < 4 + 3$

$1 < 15 - 10$

$10 > 9$

$20 > 12$

$13 = 16 - 3$

$4 = 8 - 4$

$9 + 6 = 15$

$8 + 6 > 13$

$16 < 8 + 10$

$12 = 6 + 6$

五、看图写算式。

1.




$4 + 3 = 7$

$7 - 4 = 3$

$7 - 3 = 4$

$4 + 3 = 7$

2.



$14 - 4 = 10$

10 (只)

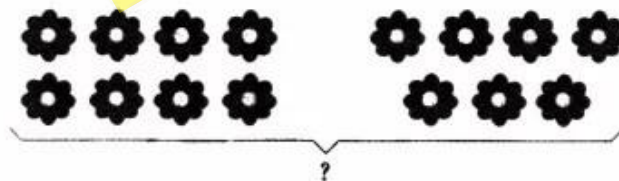
3.



$9 - 3 = 6$

6 (朵)

4.



$8 + 7 = 15$

15 (朵)

六、走进生活。

1.

小华做了 9 只纸鹤,
小明做了 10 只,
两人共做()只。

$$9 + 10 = 19 \text{ (只)}$$

3.

树上原有 8 只猴子,
又跑来 5 只,
现在有()只。

$$8 + 5 = 13 \text{ (只)}$$

2.

亮亮做了 10 个毽子,
送给小朋友 7 个,
还剩()个。

$$10 - 7 = 3 \text{ (个)}$$

4.

一本书小红已经看了 8 页,
还有 9 页没看,
这本书原有()页。

$$8 + 9 = 17 \text{ (页)}$$

5. $8 + 8 = 16$ (面)

6. 第一组: $8 + 7 = 15$ (人)
第二组: $7 + 9 = 16$ (人)
第二组人数较多。



升学帮
www.vvvsxb.com