

锦江区 2018—2019 学年度上期小学一年级数学  
终结性评价

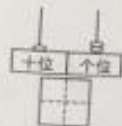
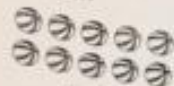
等级

(时间: 50 分 请老师读题)

班级  姓名

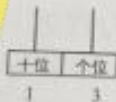
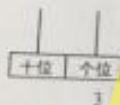
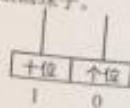
一、我会填空。

1. 看图写数。



2. ① 15 里面有 ( ) 个十和 ( ) 个一。  
② 一个数个位上是 8, 十位上是 1, 这个数是 ( )。  
③ 10 个一和 1 个十合起来是 ( )。

3. 看数画珠子。



4. 想一想, 填一填。

☆	20	7
□	11	△
6	9	○

- ① □ 在 11 的 ( ) 边, 在 6 的 ( ) 面。  
② 7 在 △ 的 ( ) 面, 在 20 的 ( ) 边。  
③ 方框里一共有 ( ) 个数, 一共有 ( ) 个图形。

二、我会计算。

1. 算一算。

$3+6=$

$10-3=$

$14+3=$

$19+1=$

$15-2=$

$8-6=$

$16-4=$

$4+9=$

$4+0=$

$16-10=$

$8+7=$

$7-7=$

$18-8=$

$6+8=$

$15-2=$

$10+6=$

—数(阵)—1

$8+9+1=$

$13-10+7=$

$14-2-1=$

$10+5+5=$

$19-3-4=$

$12+7-6=$

2. 在○里填上>、<或=, 在□内填上合适的数。

$5+7 \bigcirc 10$

$11 \bigcirc 6+6$

$8+6 \bigcirc 9+5$

$\square + 2 = 10$

$\square - \square = 0$

$10 < \square$

三、我会辨认。

1. 认一认, 填一填。



- 长方体有 ( ) 个;  
□ 正方体有 ( ) 个;  
□ 圆柱有 ( ) 个;  
● 球有 ( ) 个。

2. 认一认, 连一连。



5:30



3:00

1时

10时半

3时

11时半

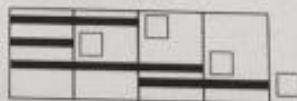
5时半

3. 比一比。

① 哪根绳子最长? 画“√”。

② 最轻的画“√”, 最重的画“○”。

哪根绳子最短? 画“○”。



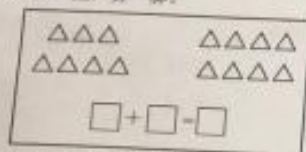
4. 分一分, 在学习用品的下面画“√”, 在体育用品的下面画“○”。



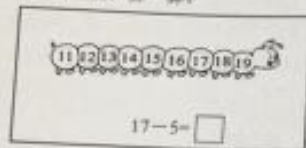
—数(阵)—2

四. 我知道计算的道理。

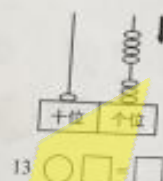
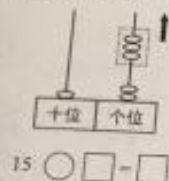
1. 画一画，算一算。



2. 画一画，算一算。



3. 仔细观察，再列式算一算。



五. 我会解决问题。

1. 下面一共有17颗糖，袋子里装了多少颗糖？



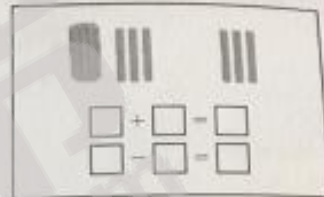
$$\square \bigcirc \square = \square \text{ (颗)}$$

2. 一共有几只蜗牛？






$$\square \bigcirc \square = \square \text{ (只)}$$

3. 看一看，算一算。



4. 现在有几只小鸟？




$$\square \bigcirc \square \bigcirc \square = \square \text{ (只)}$$

智力挑战！

1. 想一想，填一填。

$$9 + \square = 8 + \square = 7 + \square = \square + \square = 11$$

2. 从右数， 排在第5，一共有□只小动物。



3. 想一想，□里可以填几？

$$4 + \square > 10$$

$$16 - \square < 9$$

$$\square - 6 < 8$$