

北师大版一年级上册数学期末试卷

班级\_\_\_\_\_姓名\_\_\_\_\_成绩\_\_\_\_\_

评价等级	优	良	达标	待达标
在相应等级上划“√”				

一、填空（每空 1 分，共 26 分）

- 1、☆☆☆☆☆☆ △△△△△ \_\_\_\_\_ 比 \_\_\_\_\_ 多，多\_\_\_\_\_ 个。
- 2、与 19 相邻的数是（        ）和（        ）。
- 3、一个加数是 8，另一个加数是 5，和是（        ）。
- 4、减数是 8，被减数是 19，差是（        ）。
- 5、16 里面有（        ）个一，有（        ）个十；20 里面有（        ）个十。
- 6、（        ）+ 6 = 13                      8 +（        ）=17
- 7、6 个一，1 个十组成的数是（        ）。30 里面有（        ）个一。
- 8、一个两位数，从右边起，第一位是（        ）位，十位是第（        ）位。
- 9、按规律填数。 3 、 5、 \_\_\_\_\_ 、 \_\_\_\_\_ 、 11、 \_\_\_\_\_ 、  
15        ；                      10 、  
7        、 \_\_\_\_\_ 、 \_\_\_\_\_ 。
- 10、写出与 8 + 4 相等的三个加法算式。  
\_\_\_\_\_
- 11、你上第一节课的时间大约是（        ）分钟。
- 12、你的生日是（        ）月。

二、口算(15 分)

10-1=

7+9=

6+8=

5+7=

7+7=

9-8=

10+9=

12-3-6=

8-2=

3+3=

9-2=

9+1-4=



$0+9=$

$7-7=$

$13-7=$

$15-7=$

### 三、相信我能做对（10分）

1、比较一下，在○填上“>”、“<”或“=”。

$8 \bigcirc 7 \quad 10 \bigcirc 6+3 \quad 8 \bigcirc 9+7 \quad 1+9 \bigcirc 10-0$

2、在○填上“+”或“-”。

$9=4 \bigcirc 5 \quad 1 \bigcirc 5=6 \quad 8=12 \bigcirc 4 \quad 11 \bigcirc 6=5 \bigcirc 12$

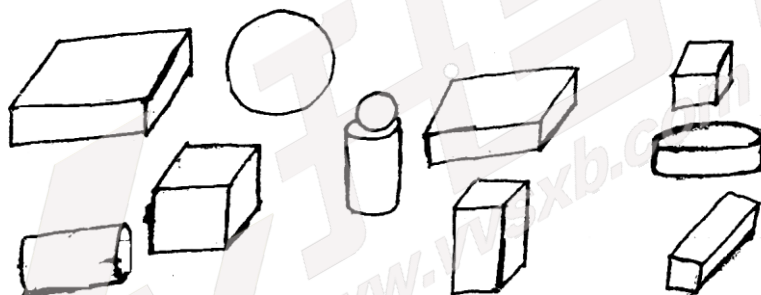
3、在()里填上合适的数。

$9+ ( ) =10 \quad 8+ ( ) =15 \quad 9-3=2+ ( )$

$18-( )=6+( ) \quad ( )+6<9$

$3+( )<19 \quad 12<( )+3 \quad ( )-( )<19$

### 四、数一数填空。（4分）



长方体有( )个，正方体有( )个，

圆柱有( )个，球有( )个。


### 五、看钟面填空。（4分）



( )时



( )时



( )时刚过



快到( )时



## 六、画一画(2分)

1、画和○同样多的△

○○○○○○○

2、画比○多2个的△

○○○○○○○○○

## 七、连线。(8分)

$8+9$

$3+7$

$6-5$

$15-8$

$11-5$

$3+2$

$4+3$

$5+9$

$9-4$

$9+8$

$13-3$

$9-8$

$4+6$

$12-6$

$6+8$

$16-6$

## 八、(11分)

1、15 里面有( )个十和( )个一。

$2、( )+8=12$

$5+( )=13$

$6+( )=6$

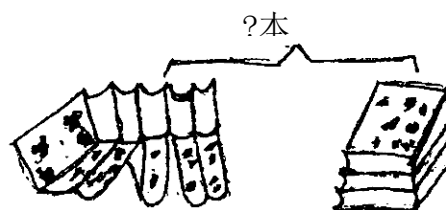
$3+( )=11$

3、与 17 相邻的两个数是( )和( )。

4、一个数十位上是 1，个位上是 9，这个数是( )

5、1 前面的数( )，1 后面的数是( )。

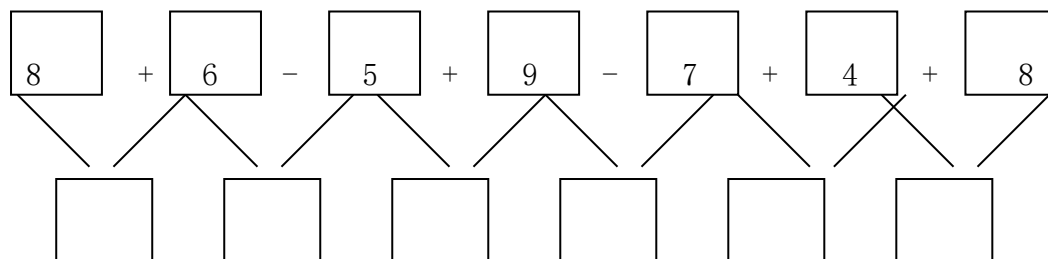
## 九、看图列式计算：(4分)



$$\square \bigcirc \square = \square$$

$$\square \bigcirc \square = \square$$

十、算一算(6分)



附加题。(6分)

找规律填数

2, 4, 6, \_\_\_\_\_

5, 10, \_\_\_\_\_

16, 12, \_\_\_\_\_

